

Unidade 6

Funções trigonométricas

Regras de L'Hopital

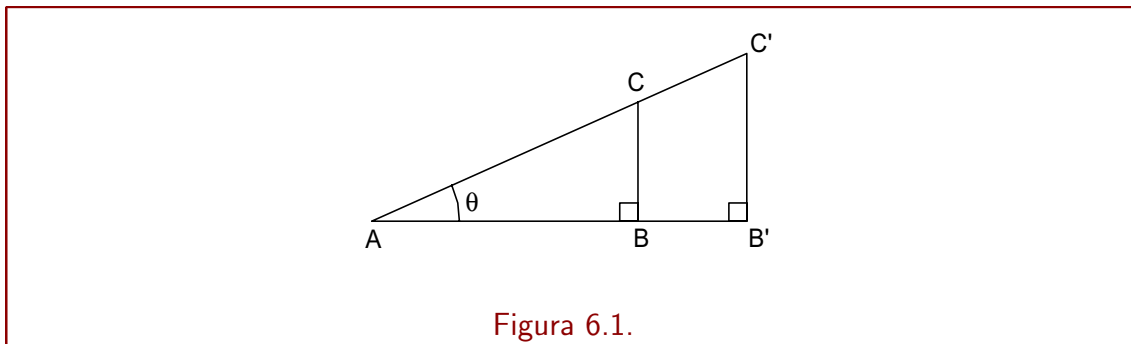
Agora estaremos fazendo uma pequena revisão de funções trigonométricas e apresentando suas derivadas. Estaremos estudando também um método para calcular limites indeterminados através de derivadas.

6.1 Pequena revisão de trigonometria

6.1.1 Trigonometria geométrica

Consideremos os triângulos ABC e $A'B'C'$ da figura 6.1. Os dois triângulos são semelhantes, pois seus ângulos internos são iguais (congruentes). Assim, temos

$$\frac{AB}{AC} = \frac{AB'}{AC'}, \quad \frac{BC}{AC} = \frac{B'C'}{AC'}, \quad \frac{BC}{AB} = \frac{B'C'}{AB'}$$



Assim, sendo ABC um triângulo retângulo, como na figura 6.1 as razões $\frac{AB}{AC}$, $\frac{BC}{AC}$ e $\frac{BC}{AB}$ dependem somente da abertura $\theta = \hat{A}$.

Chamamos

$$\begin{aligned} \text{cosseno de } \theta = \cos \theta &= \frac{AB}{AC} = \frac{\text{cateto adjacente ao ângulo } \theta}{\text{hipotenusa}} \\ \text{seno de } \theta = \sin \theta &= \frac{BC}{AC} = \frac{\text{cateto oposto ao ângulo } \theta}{\text{hipotenusa}} \\ \text{tangente de } \theta = \text{tg } \theta &= \frac{BC}{AB} = \frac{\text{cateto oposto ao ângulo } \theta}{\text{cateto adjacente ao ângulo } \theta} \end{aligned}$$

Deduz-se imediatamente que $\text{tg } \theta = \frac{\text{sen } \theta}{\text{cos } \theta}$.

São bem conhecidos os valores

θ	$\cos \theta$	$\sin \theta$	$\text{tg } \theta$
0	1	0	0
30°	$\sqrt{3}/2$	1/2	$1/\sqrt{3}$
45°	$\sqrt{2}/2$	$\sqrt{2}/2$	1
60°	1/2	$\sqrt{3}/2$	$\sqrt{3}$
90°	0	1	não se define

Se \widehat{PQ} é um arco de um círculo de raio r , correspondente a um ângulo central de abertura α , o comprimento c de \widehat{PQ} é dado por

$$c = r \cdot (\text{medida de } \alpha \text{ em radianos})$$

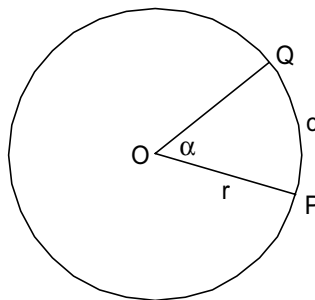


Figura 6.2.

Assim, o comprimento c do arco \widehat{PQ} é diretamente proporcional a r e a α . Quando $\alpha = 360^\circ$, temos

$$c = \text{comprimento da circunferência} = 2\pi \cdot r$$

Assim sendo,

$$\boxed{360 \text{ graus} = 2\pi \text{ radianos, ou seja, } 180^\circ = \pi}$$

Se $r = 1 = \text{uma unidade de comprimento}$, o comprimento c do arco \widehat{PQ} é simplesmente a medida de α em radianos.

A área do setor circular de ângulo central α também é proporcional a α . Quando $\alpha = 2\pi$, temos a área de um círculo de raio r : $A = \pi r^2$. Assim, um setor circular de abertura α , tem área $A_\alpha = \frac{\alpha}{2} \cdot r^2$ (α em radianos).

6.1.2 Trigonometria analítica

Para definir as funções trigonométricas de variável real, consideramos, em um sistema cartesiano ortogonal, a circunferência de equação $x^2 + y^2 = 1$ (de centro em $(0, 0)$ e raio 1). Esta circunferência é o que chamaremos de *círculo trigonométrico*.

Dado um número real α , tomamos $A = (1, 0)$ e demarcamos, no círculo trigonométrico, um ponto P_α tal que a medida do percurso de A a P_α , sobre o círculo trigonométrico, é igual a $|\alpha|$ (figura 6.3).

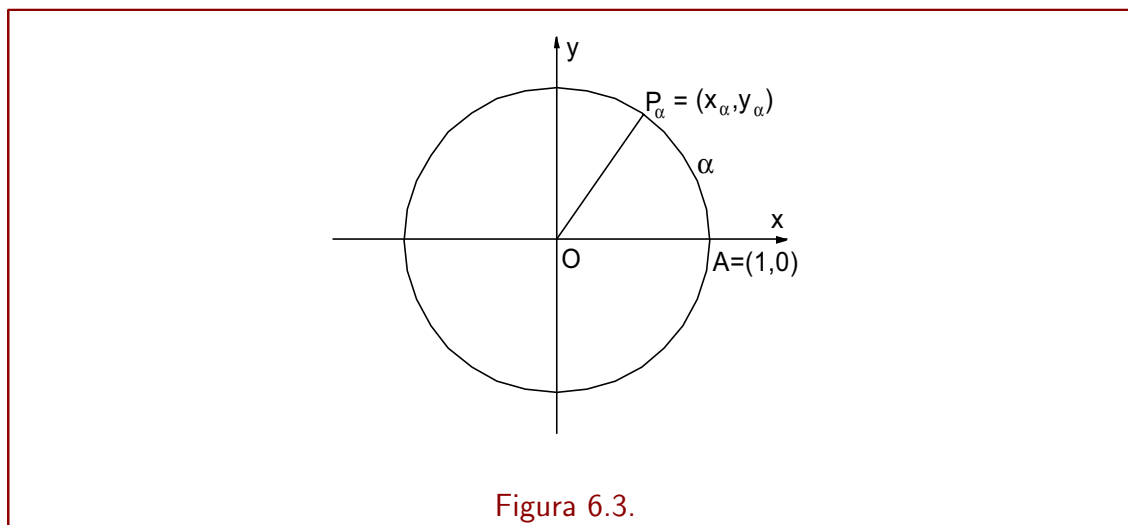


Figura 6.3.

O percurso \widehat{AP}_α é feito no sentido *anti-horário* se $\alpha > 0$, e é feito no sentido *horário* se $\alpha < 0$. Dizemos que α é a medida algébrica do arco orientado \widehat{AP}_α .

Assim, por exemplo, $P_\pi = P_{-\pi} = (-1, 0)$, $P_{\pi/2} = (0, 1)$, $P_{-\pi/2} = (0, -1)$, $P_{\pi/4} = (\sqrt{2}/2, \sqrt{2}/2)$, $P_{\pi/3} = (\sqrt{3}/2, 1/2)$, e $P_0 = (1, 0) = P_{2\pi} = P_{2n\pi}$, para cada inteiro n .

Sendo $\alpha \in \mathbb{R}$, consideremos $P_\alpha = (x_\alpha, y_\alpha)$, definido como acima. Definimos

$$x_\alpha = \cos \alpha = \text{cosseno de } \alpha,$$

$$y_\alpha = \text{sen } \alpha = \text{seno de } \alpha$$

Para estendermos a definição de *tangente de α* a arcos orientados α , tomamos um eixo y' , paralelo ao eixo y , de origem $O' = A$, orientado positivamente para cima, no qual usaremos a mesma escala de medidas do eixo y . Sendo $\alpha \in \mathbb{R}$, consideramos a reta OP_α . Se $\alpha \neq \frac{\pi}{2} \pm n\pi$, para todo $n \in \mathbb{Z}$, esta reta intercepta o eixo y' em T_α . Veja figura 6.4. Sendo t_α a abscissa de T_α no eixo y' , definimos

$$t_\alpha = \text{tg } \alpha = \text{tangente de } \alpha$$

Assim sendo, $\text{tg } \alpha = \frac{\text{sen } \alpha}{\cos \alpha}$.

Se $0 < \alpha < \pi/2$, os valores $\cos \alpha$, $\text{sen } \alpha$, e $\text{tg } \alpha$ coincidem com aqueles das definições geométricas de cosseno, seno e tangente, dadas na seção 6.1.1.

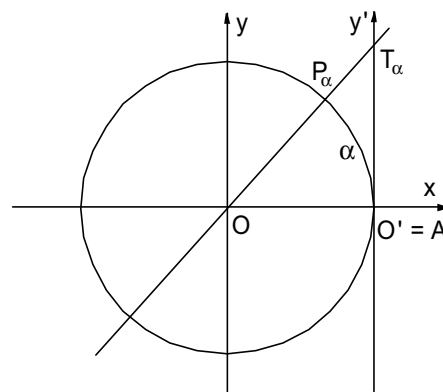


Figura 6.4. No sistema Oxy , $T_\alpha = (1, t_\alpha) = (1, \text{tg } \alpha)$.

Também definem-se as funções trigonométricas

$$\begin{aligned} \text{cotangente de } \alpha &= \text{cotg } \alpha = \frac{\cos \alpha}{\text{sen } \alpha} && (\alpha \neq n\pi, \forall n \in \mathbb{Z}) \\ \text{secante de } \alpha &= \text{sec } \alpha = \frac{1}{\cos \alpha} && (\alpha \neq \frac{\pi}{2} + n\pi, \forall n \in \mathbb{Z}) \\ \text{cossecante de } \alpha &= \text{cosec } \alpha = \frac{1}{\text{sen } \alpha} && (\alpha \neq n\pi, \forall n \in \mathbb{Z}) \end{aligned}$$

Na figura 6.5, ilustramos geometricamente as seis funções trigonométricas de um arco α no primeiro quadrante, isto é, satisfazendo $0 < \alpha < \pi/2$.

Listamos abaixo algumas fórmulas úteis, envolvendo as funções trigonométricas. Aqui e sempre, $\cos^2 a = (\cos a)^2$, $\text{sen}^2 a = (\text{sen } a)^2$, $\text{tg}^2 a = (\text{tg } a)^2$, etc.

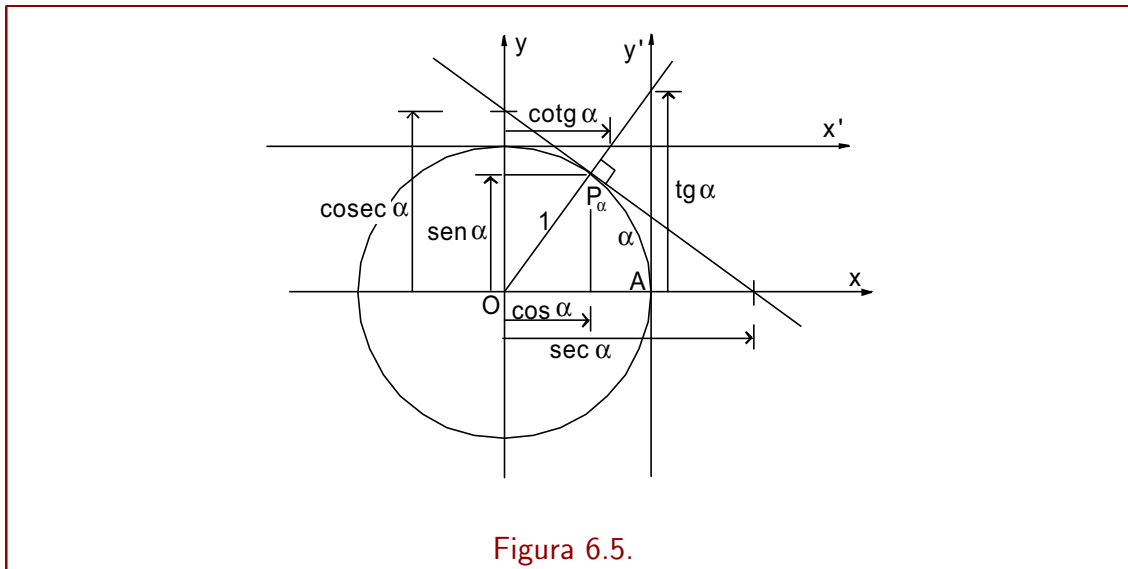


Figura 6.5.

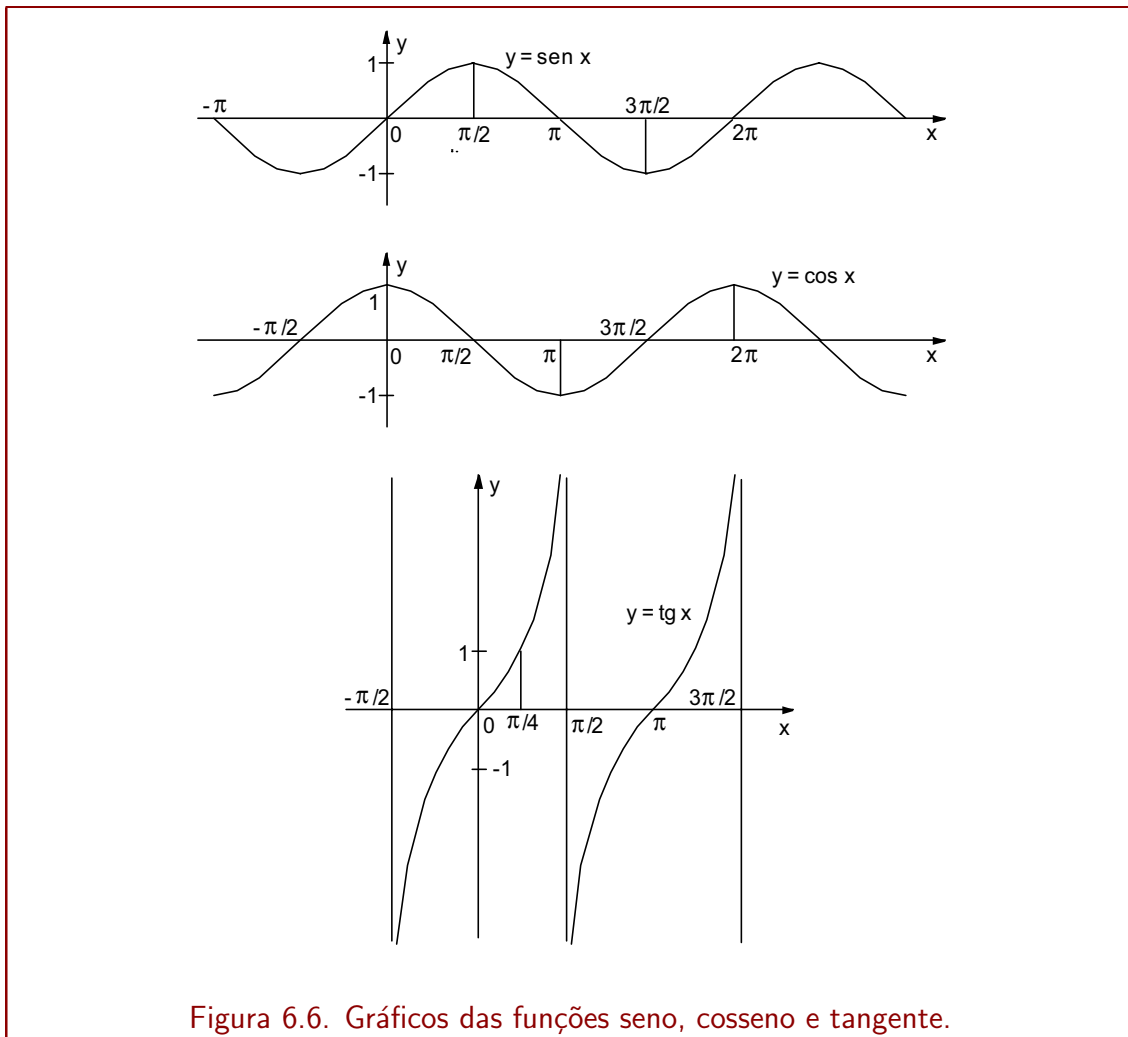


Figura 6.6. Gráficos das funções seno, cosseno e tangente.

1. $\cos^2 a + \sin^2 a = 1$ (isto porque $x_a^2 + y_a^2 = 1$)
2. $1 + \operatorname{tg}^2 a = \sec^2 a$ (dividindo-se ambos os membros da equação 1 por $\cos^2 a$)
 $1 + \operatorname{cotg}^2 a = \operatorname{cosec}^2 a$ (dividindo-se ambos os membros da equação 1 por $\sin^2 a$)
3. $\sin(a + b) = \sin a \cos b + \sin b \cos a$
 $\sin(a - b) = \sin a \cos b - \sin b \cos a$
 $\cos(a + b) = \cos a \cos b - \sin a \sin b$
 $\cos(a - b) = \cos a \cos b + \sin a \sin b$
4. $\cos(-a) = \cos a, \quad \sin(-a) = -\sin a$
 $\operatorname{tg}(-a) = \frac{\sin(-a)}{\cos(-a)} = \frac{-\sin a}{\cos a} = -\operatorname{tg} a$
5. $\sin 2a = \sin(a + a) = 2 \sin a \cos a$
 $\cos 2a = \cos(a + a) = \cos^2 a - \sin^2 a$
6. $\cos a = \sin\left(\frac{\pi}{2} - a\right), \quad \sin a = \cos\left(\frac{\pi}{2} - a\right)$

6.2 Derivando funções trigonométricas

Apresentamos agora as derivadas das funções trigonométricas.

Regra 13 Derivando em relação a x , temos

$$\begin{aligned}(\sin x)' &= \cos x \\(\cos x)' &= -\sin x \\(\operatorname{tg} x)' &= \sec^2 x \\(\operatorname{cotg} x)' &= -\operatorname{cosec}^2 x \\(\sec x)' &= \sec x \operatorname{tg} x \\(\operatorname{cosec} x)' &= -\operatorname{cosec} x \operatorname{cotg} x\end{aligned}$$

De um modo geral, pela regra da cadeia, temos

$$(\sin u)' = (\cos u) \cdot u', \quad (\cos u)' = -(\sin u) \cdot u', \quad (\operatorname{tg} u)' = (\sec^2 u) \cdot u',$$

etc.

As derivadas das quatro últimas funções trigonométricas podem ser calculadas a partir das derivadas das funções seno e cosseno, fazendo-se uso das relações

$$\operatorname{tg} x = \frac{\sin x}{\cos x}, \quad \operatorname{cotg} x = \frac{\cos x}{\sin x}, \quad \sec x = \frac{1}{\cos x}, \quad \operatorname{cosec} x = \frac{1}{\sin x}$$

e aplicando-se a regra de derivação de quociente, $\left(\frac{u}{v}\right)' = \frac{u'v - uv'}{v^2}$.

6.3 Funções trigonométricas inversas e suas derivadas

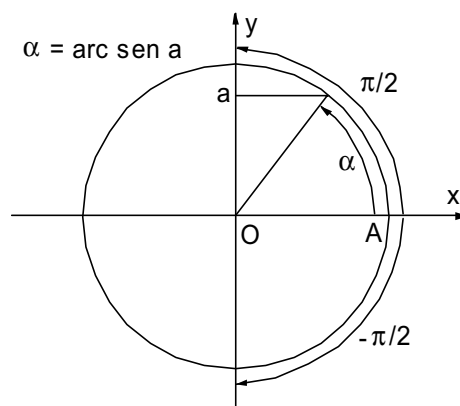
A função arco-seno. Para cada número real a , $-1 \leq a \leq 1$, existe um único arco orientado α , $-\pi/2 \leq \alpha \leq \pi/2$, tal que $\text{sen } \alpha = a$.

Dizemos que α é o arco cujo seno é a , ou que α é o arco-seno de a , e denotamos isto por

$$\alpha = \text{arc sen } a$$

Sumarizando,

$$\alpha = \text{arc sen } a \quad \text{se e somente se} \quad \begin{cases} \text{sen } \alpha = a \\ -\pi/2 \leq \alpha \leq \pi/2 \end{cases}$$



Assim, por exemplo (confira),

$$\text{arc sen } 1 = \frac{\pi}{2}, \quad \text{arc sen } \frac{\sqrt{3}}{2} = \frac{\pi}{3}, \quad \text{arc sen } \left(-\frac{1}{2}\right) = -\frac{\pi}{6}, \quad \text{arc sen}(-1) = -\frac{\pi}{2}$$

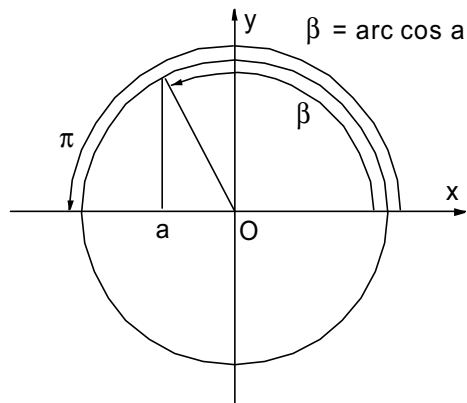
A função arco-cosseno. Para cada número real a , $-1 \leq a \leq 1$, existe um único arco orientado β , $0 \leq \beta \leq \pi$, tal que $\text{cos } \beta = a$.

Dizemos que β é o arco cujo cosseno é a , ou que β é o arco-cosseno de a , e denotamos isto por

$$\beta = \text{arccos } a$$

Sumarizando,

$$\beta = \text{arccos } a \quad \text{se e somente se} \quad \begin{cases} \text{cos } \beta = a \\ 0 \leq \beta \leq \pi \end{cases}$$

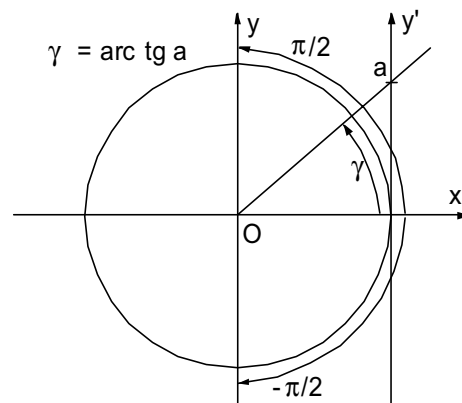


Assim, por exemplo, $\arccos 1 = 0$, $\arccos(\sqrt{2}/2) = \pi/4$, $\arccos(-1/2) = 2\pi/3$, $\arccos(-1) = \pi$.

A função arco-tangente. Para cada número real a , $-\infty < a < +\infty$, existe um único arco orientado γ , $-\pi/2 < \gamma < \pi/2$, tal que $\operatorname{tg} \gamma = a$.

Dizemos que γ é o arco cuja tangente é a , ou que γ é o arco-tangente de a , e denotamos isto por

$$\gamma = \operatorname{arc} \operatorname{tg} a$$



Sumarizando,

$$\gamma = \operatorname{arc} \operatorname{tg} a \quad \text{se e somente se} \quad \begin{cases} a = \operatorname{tg} \gamma \\ -\pi/2 < \gamma < \pi/2 \end{cases}$$

Assim, definem-se as funções $\operatorname{arc} \operatorname{sen} x$ e $\operatorname{arccos} x$, para $-1 \leq x \leq 1$, e $\operatorname{arc} \operatorname{tg} x$ para todo $x \in \mathbb{R}$. Algumas calculadoras científicas chamam essas funções pelas teclas $\boxed{\operatorname{INV}} \boxed{\operatorname{SIN}}$, $\boxed{\operatorname{INV}} \boxed{\operatorname{COS}}$, $\boxed{\operatorname{INV}} \boxed{\operatorname{TAN}}$, e às vezes pelas teclas $\boxed{\operatorname{SIN}^{-1}}$, $\boxed{\operatorname{COS}^{-1}}$, $\boxed{\operatorname{TAN}^{-1}}$.

Regra 14

$$(\arcsen u)' = \frac{1}{\sqrt{1-u^2}} \cdot u', \quad -1 < x < 1$$

$$(\arccos u)' = -\frac{1}{\sqrt{1-u^2}} \cdot u', \quad -1 < x < 1$$

$$(\arctg u)' = \frac{1}{1+u^2} \cdot u', \quad -\infty < x < +\infty$$

6.4 Problemas

1. Calcule as derivadas das seguintes funções.

(a) $y = \cotg(x^3 - 2x)$ (b) $f(x) = \cos 3x^2$

(c) $y = \frac{\cos 4x}{1 - \sen 4x}$ (d) $g(x) = \cos^2 3x$ ($\cos^2 a$ significa $(\cos a)^2$)

(e) $y = x^2 \sec^2 5x$

Respostas. (a) $-(3x^2 - 2) \operatorname{cosec}^2(x^3 - 2x)$ (b) $-6x \sen 3x^2$ (c) $\frac{4}{1 - \sen 4x}$
 (d) $-3 \sen 6x$ (e) $2x \sec^2 5x + 10x^2 \sec^2 5x \operatorname{tg} 5x$

2. Calcule a derivada da função $y = \arcsen \sqrt{x}$.

Resposta. $\frac{1}{2\sqrt{x}\sqrt{1-x}}$

3. Determine y' por derivação implícita.

(a) $y = x \sen y$ (b) $e^x \cos y = x e^y$

Respostas. (a) $y' = \frac{\sen y}{1 - x \cos y}$ (b) $y' = \frac{e^x \cos y - e^y}{e^x \sen y + x e^y}$

4. Esboce o gráfico da função $y = \arctg x$, analisando-a previamente através de derivadas e limites apropriados.

Resposta. (Daremos as derivadas como suporte à solução.)

$$y' = \frac{1}{1+x^2}, \quad y'' = \frac{-2x}{(1+x^2)^2}$$

